

ใบงาน

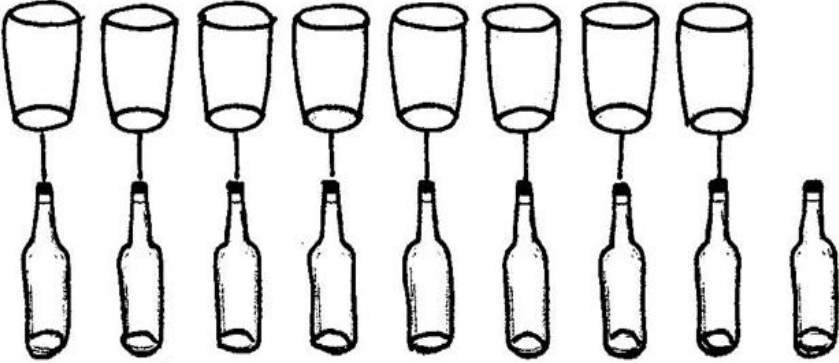
ชั้นประถมศึกษาปีที่ 1

สัปดาห์ที่... 6 ...วันที่... 22 ... มิถุนายน พ.ศ. 2563


วิชาคณิตศาสตร์ เรื่อง... เท่ากัน - ไม่เท่ากัน

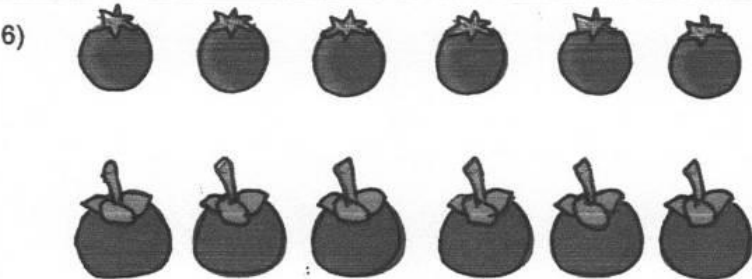
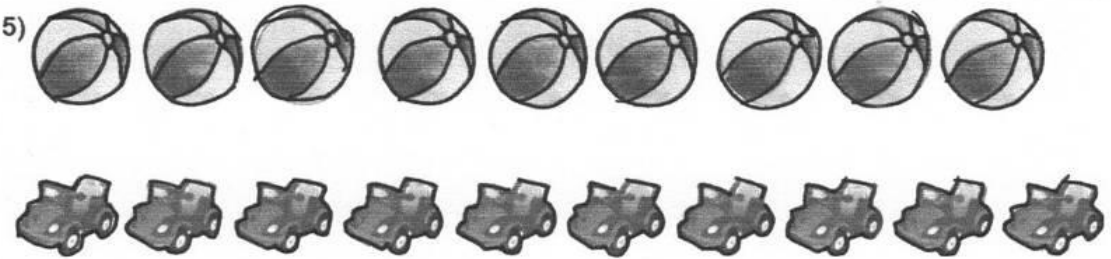

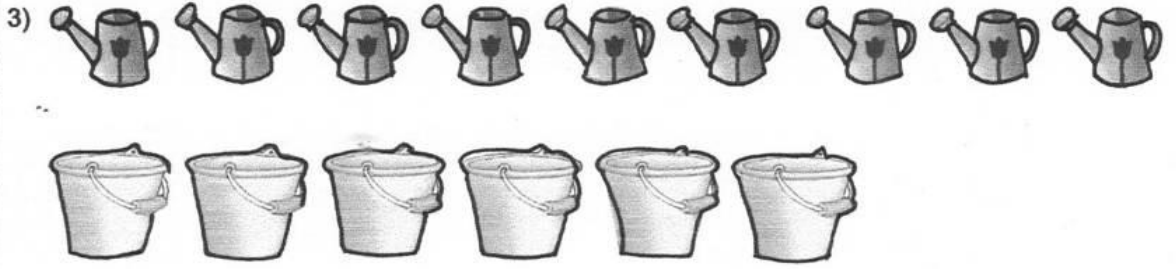
ชื่อ-สกุล.....

คำชี้แจง ให้นักเรียนโยงเส้นจับคู่สิ่งของ 2 กลุ่ม แล้วสรุปว่าสิ่งของทั้งสองกลุ่มมีค่าเท่ากันหรือไม่เท่ากัน

1)  ตัวอย่าง

ไม่เท่ากัน

2) 



ใบงาน

ชั้นประถมศึกษาปีที่ 1











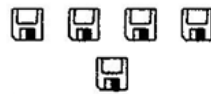

สัปดาห์ที่.....6.....วันที่.....22.....มิถุนายน.....พ.ศ. 2563

วิชาคณิตศาสตร์ เรื่อง...มากกว่า - น้อยกว่า.....


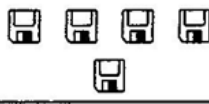


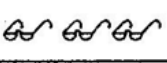




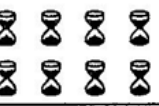
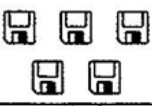

ชื่อ-สกุล.....

คำชี้แจง ให้นักเรียนทำกิจกรรมที่กำหนดให้ต่อไปนี้

1. จงทำเครื่องหมาย X ทับภาพที่มีจำนวนสิ่งของมากกว่าภาพทางซ้ายมือ

ตัวอย่าง	1) 				X
	2) 				
	3) 				

2. จงทำเครื่องหมาย X ทับภาพที่มีจำนวนสิ่งของน้อยกว่าภาพทางซ้ายมือ

1)				
2)				
3)				

3. เติมจำนวนลงในช่องว่างให้ถูกต้อง

- | | |
|------------------------------------|------------------------------------|
| 1) <input type="text"/> น้อยกว่า 7 | 4) <input type="text"/> มากกว่า 8 |
| 2) 7 มากกว่า <input type="text"/> | 5) 9 น้อยกว่า <input type="text"/> |
| 3) 3 เท่ากับ <input type="text"/> | 6) <input type="text"/> เท่ากับ 5 |

ใบงาน

ชั้นประถมศึกษาปีที่ 1

สัปดาห์ที่... 6... วันที่... 24... มิถุนายน.....พ.ศ. 2563

วิชาคณิตศาสตร์ เรื่อง... เรียงลำดับจำนวนนับ 1-9 และ 0.....

ชื่อ-สกุล.....

คำชี้แจงให้นักเรียนเติมตัวเลขลงในช่องว่าง โดยเรียงลำดับจากน้อยไปมาก หรือจากมากไปน้อยให้ถูกต้อง

