

## ใบงานที่ 5

### เรื่อง การจำแนกสาร

ชื่อ ..... ชั้น.....

#### คำชี้แจง ให้นักเรียนตอบคำถาม


1. เกณฑ์ที่ใช้ในการจำแนกสารมีเกณฑ์ ดังนี้

1.1 .....

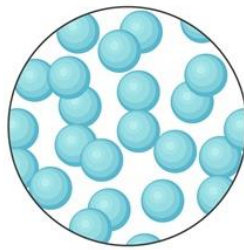
1.2 .....

1.3 .....


2. พิจารณาภาพแล้วตอบคำถาม



ภาพ ก



ภาพ ข



ภาพ ค

ภาพใดอยู่ในสถานะเดียวกับน้ำแข็ง .....

3. น้ำปลาจัดเป็นสารเนื้อเดียวหรือเนื้อผสม .....

4.

น้ำนม

น้ำแป้ง

น้ำหวาน

จงเรียงสารที่กำหนดให้ตามขนาดอนุภาคของสาร จากอนุภาคใหญ่ไปเล็กตามลำดับ

.....